

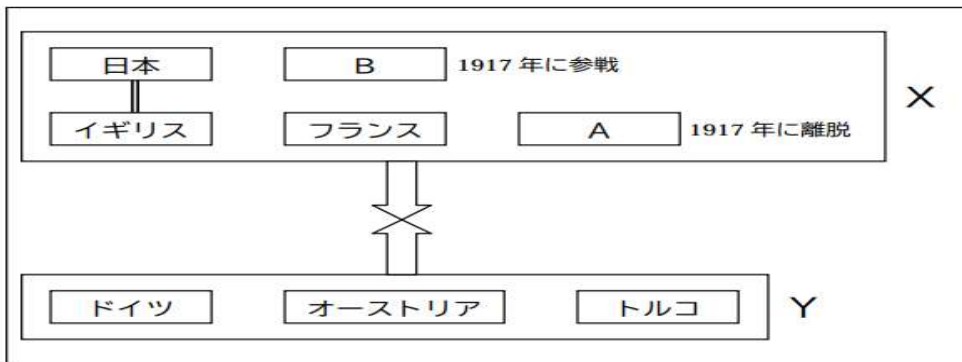
① 20世紀の初頭から前半にかけての世界について、次の各問いに答えなさい。

(1) 20世紀初めのバルカン半島は、列強の利害と民族・宗教の対立がからまって紛争が絶えなかったことから、何と呼ばれていたか。

(2) バルカン半島の列強の利害対立がきっかけとなって始まった、大きな戦争を何というか。

(3) (2)の戦争が始まるきっかけとなった、オーストリア皇太子暗殺事件が起きた場所を答えなさい。

(4) (2)の戦争について、次の列強の関係図をみて、下の各問いに答えなさい。



① 関係図の中の X、Y のうち、連合国はどちらか。記号で答えなさい。

② 日本はなぜ X 側について参戦したか。関係図からよみとって説明しなさい。

③ 関係図中の A の国は 1917 年にこの戦争から脱退した。その理由を簡単に説明しなさい。

④ ドイツの無差別攻撃にあつて、1917年に X 側で参戦した、関係図中の B の国を答えなさい。

(5) この戦争中の日本の状況について、あてはまらないものを次のア～エから一つ選び記号で答えなさい。

ア: 中国に二十一か条の要求をだした。

イ: 関東大震災が起きた。

ウ: 英・米・仏とともにシベリアに出兵した。

エ: 輸出が輸入を上回り、好景気になった。

(6) 1919年に、フランスのパリ郊外で結ばれた、(2)の戦争のドイツに対する講和条約を答えなさい。

(7) (6)の講和会議で「民族自決」などを唱えたアメリカの大統領を答えなさい。

(8) (6)の会議の後、世界の情勢として誤っているものを次のア～エから一つ選び、記号で答えなさい。

ア:ジュネーブに本部を置く、国際連盟が成立した。

イ:アメリカなどで、国境の不可侵や軍縮を目指す会議が開かれた。

ウ:民族自決の原則により、東ヨーロッパ諸国などの独立が承認された。

エ:ガンジーの指導の下で、インドが独立した。

(9) 1922年に成立した、世界初の社会主義国家の正式名称を答えなさい。

2 次の文章を読んで、下の各問いに答えなさい。

戦後の世界的な民主主義の風潮のなか、a 日本にも自由な雰囲気が広がった。政治のうえでは、民衆の支持を受けた憲政擁護運動が、議会を無視した桂太郎内閣を退陣させ、b 1918年にはc 原敬が、立憲政友会による内閣を成立させた。

大戦後の不景気のなか、d 労働運動やさまざまな社会運動がさかんに行われたのも、この風潮によるものである。

その後の政治は、1924年に、憲政会総裁の加藤高明内閣が成立し、翌年にはe 普通選挙法と（あ）を相次いで制定した。

社会的な面では、都市に西洋風の生活様式が流行し、f 女性の社会進出が目立つようになった。また、g 学問や文芸の新しい傾向が生まれた。

(1) 下の資料は、文章中の(あ)の条文である。この法律の名前を答えなさい。

第1条 国体を変革し、または私有財産制度を否認することを目的として結社を組織し、または情を知りてこれに加入したる者は、十年以下の懲役または禁錮に処す。

(2) 文章中の下線部 a のような大正時代の民主主義の広がりをなんとというか答えなさい。

(3) 下の人物は「民本主義」を主張して、(2)に大きな影響を与えた人物である。この人物を答えなさい。



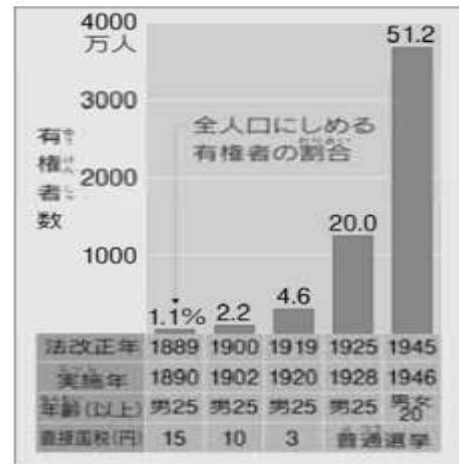
(4) 文章中の下線部 b の年におこった、米の安売りを求める運動を何というか答えなさい。

(5) 文章中の下線部 c について、この原内閣を何と呼ぶか答えなさい。

(6) 文章中の下線部 d について、農村で起こった、小作料の減免を要求した動きをなんというか答えなさい。

(7) 文章中の下線部 d について、被差別部落の人々が自らの手で人間としての平等を勝ち取り、差別からの開放を目指すために、1922年に結成した団体を何というか答えなさい。

(8) 文章中の下線部 e について、法律の制定による有権者の変化について、下のグラフを参考にして簡単に説明しなさい。



(9) 文章中の下線部 f について、青鞮者を結成して、女性解放のさきがけとなった人物を答えなさい

(10) 文章中の下線部 f に関する内容として正しいものを、下のア～エから1つ選び、記号で答えなさい。

ア: 女性の政治活動が活発化し、女性の国会議員が誕生した。

イ: 学校では男女共学が一般的になり、女性の大学進学が増えた。

ウ: 洋服は男性に普及したが、女性には普及しなかった。

エ: バスガールや電話交換手などの働く女性が増えた。

(11) 文章中の下線部 g について、このころに発表された作品と、その作家名の組み合わせとして正しいものを、次のア～エから一つ選び、記号で答えなさい。

ア 「善の研究」・西田幾多郎 イ 「舞姫」・森鷗外

ウ 「吾輩は猫である」・夏目漱石 エ 「学問のすすめ」 福沢諭吉

3 次の年表を見て、下の各問いに答えなさい。

世界のできごと	年代	日本のできごと
ニューヨークで株価が暴落…A	1929	
ロンドン海軍軍縮会議……………B	1930	
	1931	満州事変が起こる
	1932	満州国建国
		五・一五事件……………C
ヒトラーが政権をにぎる……D	1933	日本が国際連盟を脱退……………E
ニューディールが始まる……F		
イタリアが（あ）を占領	1936	（い）事件が起こる
抗日民族統一戦線結成	1937	日中戦争が始まる……………G
	1938	国家総動員法の成立
	1940	大政翼賛会結成 }……………H

(1) 年表中の（あ）、（い）に当てはまる語句をこたえなさい。

(2) 年表中のAについて、この出来事をきっかけに、世界中に広がった混乱をなんというか。漢字4字で答えなさい。

(3) 年表中のBについて、この会議ののちの日本の動きとして正しいものを、次のア～エから一つ選び、記号で答えなさい。

- ア 国際協調の気運の高まりの中で、軍備縮小を進めた。
- イ 軍縮と海外進出の抑制に対して、軍部の不満が高まった。
- ウ 朝鮮や中国への進出をやめて、満州国の独立を助けた。
- エ 政党政治がさかんになり、外国との協調外交を進めた。

(4) 年表中のCについて、この事件で暗殺された統治の首相を答えなさい。

(5) 年表中のCについて、この事件以後、日本の政治に発言力を強めたのはどのような勢力か答えなさい。

(6) 年表中のDについて、ヒトラーやイタリアのムッソリーニなど、反民主主義・反自由主義を掲げる全体主義の政治を何というか。カタカナで答えなさい。

(7) 年表中のEについて、日本が国際連盟を脱退した経緯について、次の語句を使って、簡単に説明しなさい。【調査団・満州国】

(8) 年表中のFについて、この政策をとった国を答えなさい。

(9) 年表中のFについて、イギリスやフランスは、本国と植民地との関係を密接にして、関係の深い国々だけで経済を成り立たせる政策をとった。この政策を何というか答えなさい。

(10) 年表中のGについて、日本軍が統治の中国の首都を占領する過程で、多数の中国人を殺害した事件を何というか。漢字4字で答えなさい。

(11) 年表中のHの時期に、朝鮮では日本語の使用や創氏改名などが推し進められました。こうした政策をなんというか。漢字3字で答えなさい。

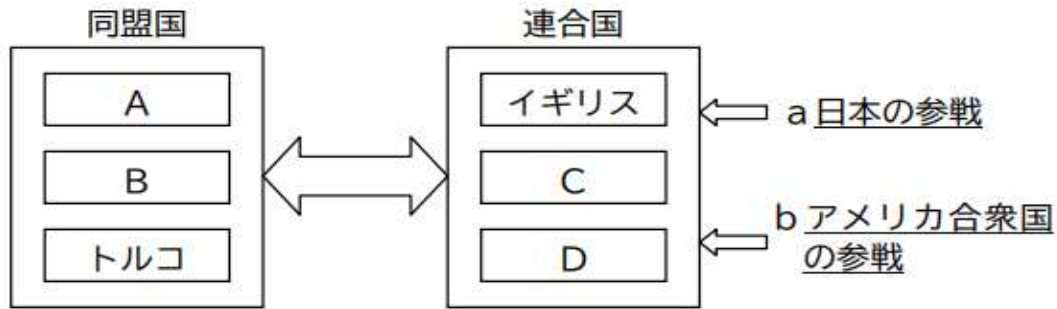
4 次のたかひろさんとおじいさんの会話を読んで下の各問いに答えなさい。

たかひろ おじいさん、第二次世界大戦は、ドイツが（あ）に侵攻したことで、イギリスと（い）がドイツに宣戦布告して始まったんだね。
おじいさん そうだよ。ちょうど日本も中国との戦争が長引いていたから、東南アジアのイギリスや（い）の植民地の資源を獲得するために進出したんだ。
たかひろ それで日本はa ドイツとイタリアと同盟を結んでいたんだね。
おじいさん 日本は北方のソ連とも（う）条約を結んでいたんだよ。
たかひろ そうか、だから日本はb 東南アジアへの進出に専念できたんだね。
おじいさん でも、その動きを警戒するアメリカと対立し、真珠湾への奇襲攻撃から（え）戦争が始まるんだ。
たかひろ 大国のアメリカと戦ったんだから、日本は総力戦だったのかな。
おじいさん そうだよ。c おじいさんが中学生のころは学徒動員で軍需工場で働いたり、小学生は空襲をさけるために親もとをはなれて（お）したりしていたんだ。 d 終戦の年には、東京で大空襲があったんだよ。
たかひろ 沖縄も大変な被害にあったと聞いたことがあるよ。
おじいさん 広島や長崎には（か）が投下され、日本は連合国にe 無条件降伏したんだ。
たかひろ 多くの犠牲者のためにも、戦争はくり返してはいけないんだね。

- (1) 会話文中の（あ）～（か）に当てはまる語句を答えなさい。
- (2) 会話文中の下線部 a について、この同盟を何というか答えなさい。
- (3) 会話文中の下線部 b について、日本が東南アジアに進出する際に唱えた、アジアの諸民族だけで栄えようとする考え方をなんというか答えなさい。
- (4) 会話文中の下線部 c について、中学生まで軍需工場で働くことになった理由を簡単に説明しなさい。
- (5) 会話文中の下線部 d について、この年は何年か。西暦で答えなさい。
- (6) 会話文中の下線部 e について、無条件降伏にあたって、日本が受け入れた連合国の宣言を答えなさい。
- (7) 日本が無条件降伏したことで、日本から独立果たした地域はどこか。次のア～エから一つ選び、記号で答えなさい。

ア:インド イ:マレーシア ウ:中国 エ:朝鮮

5 第一次世界大戦前後の国際関係を示した次の模式図をみて、下の各問いに答えなさい。



(1) 模式図中 A ~ D に当てはまる国名を、次の文章を参考にして、下の語群から選んで答えなさい。

A: この国の皇太子がサラエボで暗殺されたのをきっかけに、大戦が始まった。

B: この国は①の国と同盟関係にあったが、敗戦によって、多額の賠償金を課せられた。

C: 第一次世界大戦の講和会議は、この国で開かれた。

D: この国では、大戦中に革命が起こったため、途中で大戦から離脱した。

【語群】

ロシア オーストリア フランス 中国

ドイツ スペイン

(2) 模式図中の下線部 a について、第一次世界大戦中の日本の動きとして誤っているものを、次のア～エから一つ選び、記号で答えなさい。

ア: 韓国を併合し、大陸進出の足がかりをつかんだ。

イ: シベリアに出兵したことにとまなう米の買い占めに反発して米騒動が起こった。

ウ: 中国に二十一か条の要求を出し、中国で反日感情が高まった。

エ: アジア・アフリカへの輸出が伸び、好景気となった。

(3) 模式図中の下線部 b について、戦後、アメリカ大統領のウィルソンが唱えた内容について、次の各問いに答えなさい。

① ウィルソンの唱えた「民族自決」の原則の問題点について、民族自決が達成された地域に触れながら、簡単に説明しなさい。

② ウィルソンの提案にもとづいて、1920年に発足した国際的な平和維持のために機関を答えなさい。

6 まいさんは、下の資料1をもとにして「大正デモクラシー」について発表しようとしています。これについて、下の各問い答えなさい。

(1) まいさんが資料1を使って、選挙拡大ののびが最も大きい段階について説明する場合、どの段階になりますか。次のア～エから選び、記号で答えなさい。

- ア:1900年の段階 イ:1919年の段階
 ウ:1925年の段階 エ:1945年の段階

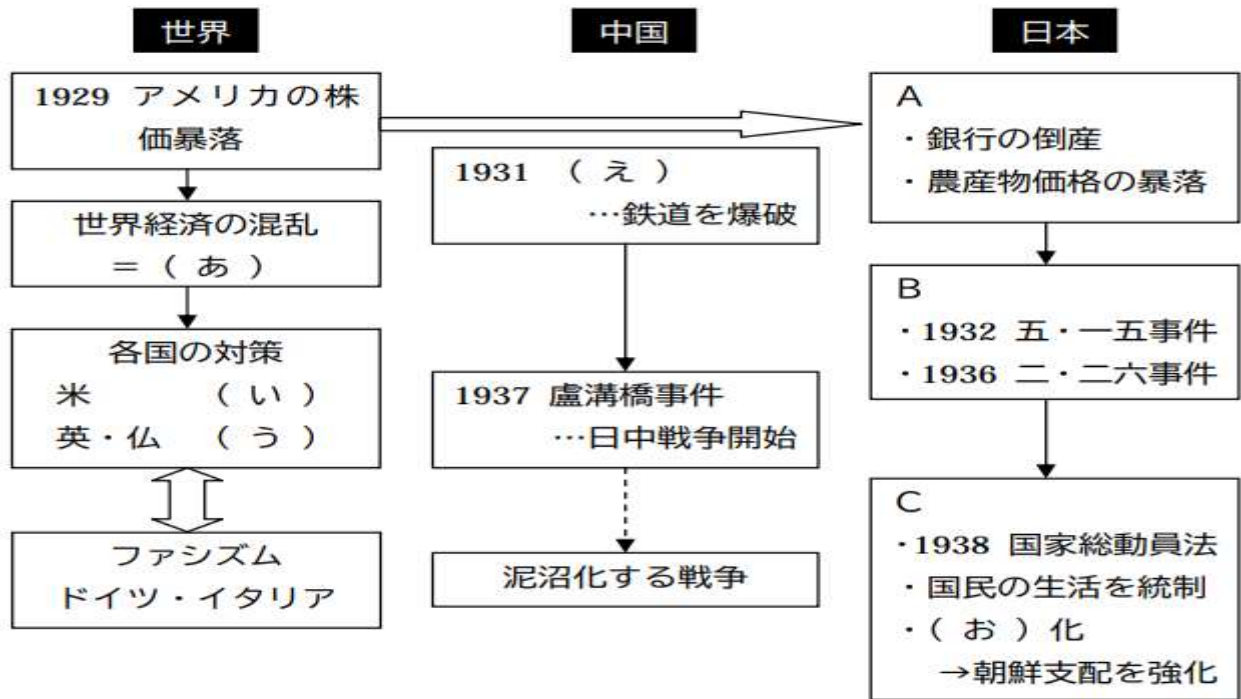
資料1



(2) まいさんは、発表のために、下のような資料を用意しました。この資料に見出しをつけるとすればどのような見出しが適当か。考えて答えなさい。

発表資料 見出し：

7 次の模式図を見て、下の各問いに答えなさい。



(1) 模式図中(あ)～(お)にあてはまる語句を答えなさい。

(2) 模式図中のA～Cの日本の動きに関連した資料を、下のア～エからすべて選び、それぞれ記号で答えなさい。

ア



イ



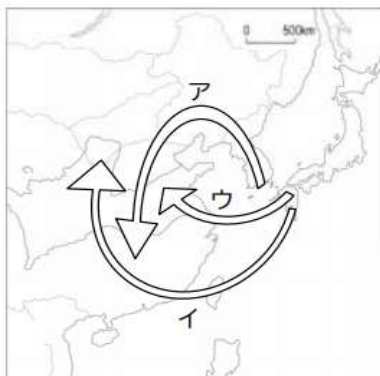
ウ



エ



(3) 模式図中の中国での動きについて、日本の中国侵略はどのような方向に進んだか。下の地図のア～ウから選び、記号で答えなさい。



8 次の年表を見て、下の各問いに答えなさい。

年代	できごと
1937	日中戦争が始まる…………… a
1939	ドイツがポーランドに侵攻する…………… b
1941	太平洋戦争が始まる…………… c
1945	(あ)を受け入れ、日本が無条件降伏する …… d

(1) 年表中の(あ)にあてはまる語句を答えなさい。

(2) 次のA～Dのカードは、いずれも年表の時期に起こった出来事です。これらを年代の古い順に並べ変えなさい。

A 学徒動員で、高校生や中学生が工場や農村で働いた。

B 広島と長崎に原爆が投下され、多大な被害が出た。

C 日本とドイツ、イタリアが日独伊三国同盟を結んだ。

D 日本とソ連が日ソ中立条約を結んだ。

(3) 年表中のbをきっかけにして始まった戦争を何というか答えなさい。

(4) 下の写真は、年表中のa～dのどれに関連したものか、一つ選んで記号で答えなさい。



(5) 年表中のdについて、太平洋戦争が終わったのは何月何日か。

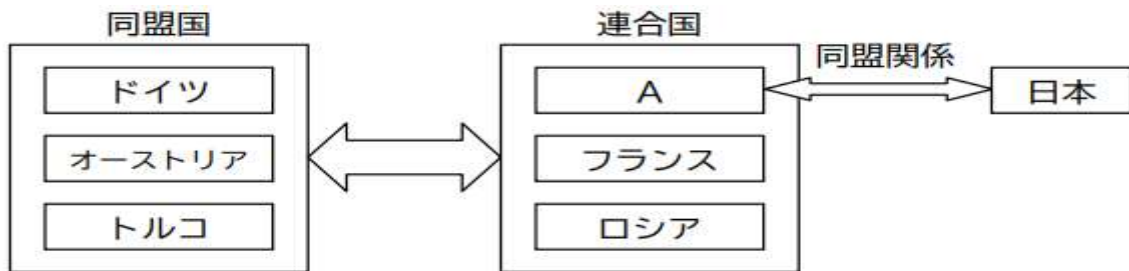
9 第一次世界大戦前後の世界について、下の各問いに答えなさい。

(1) 20世紀始めに、列強の利害と民族・宗教の対立が絶えなかった半島名を答えなさい。

(2) 第一次世界大戦のきっかけとなった、オーストリア皇太子夫妻の暗殺事件が起こった都市を、次のア～オから一つ選んで、記号で答えなさい。

ア: ロンドン イ: ポーツマス ウ: サラエボ エ: ベルリン オ: 東京

(3) 次の模式図は、第一次世界大戦の列強の関係を示しています。模式図の中の A に当てはまる国名を答えなさい。



(4) 1918年にドイツが降伏し、翌年フランスのパリで第一次世界大戦の講和会議が開かれ、講和条約が結ばれたが、この条約をなんというか答えなさい。

(5) 次の資料は、大戦中に日本が中国に対して出した要求の部分要約である。これを何というか。

- 中国政府は、ドイツが山東省にもっているいっさいの権利を日本にゆずる。
- 日本の旅順・大連の租借の期限、南満州鉄道の期限を99か年延長する。
- 中国政府は、南満州・東部内蒙古における鉱山の採掘権を日本国民にあたえる。

(6) 大戦後の講和会議で、中国は上の資料の撤廃を求めたが、実現しなかった。これをきっかけとして、中国国内で起こった国民運動を何というか。

(7) 大戦後の講和会議で、アメリカ大統領のウィルソンが唱えた原則を漢字4字で答えなさい。

(8) ウィルソンの提案にもとづいて成立した、国際連盟の事務局次長として活躍した日本人を、次のア～エから一人選んで、記号で答えなさい。

ア: 夏目漱石 イ: 新渡戸稲造 ウ: 小村寿太郎 エ: 岩倉具視

(9) 第一次世界大戦後に起こった出来事を、次のア～エからすべて選び、記号で答えなさい。

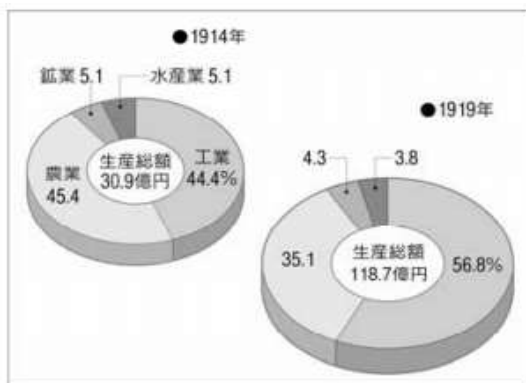
- ア: ロシア革命が起こる
- イ: ドイツでワイマール憲法が成立する。
- ウ: フランスで人権宣言が出される。
- エ: アメリカでワシントン会議が開かれる。

10 次の文章を読み、下の各問いに答えなさい

a 第一次世界大戦によって、日本の経済は好景気をむかえた。しかし、好景気は物価の上昇をまねき、労働者や零細な農民の生活は苦しくなった。1918年に、シベリア出兵による米の買いしめから米価がはね上がると、米騒動が起こり、短期間のうちに全国に広まった。

また、b 知識人の活動に影響を受け、人々の間には、c デモクラシーの風潮が広まり、政治への関心が高まっていった。米騒動の直後、立憲政友会総裁の原敬を首相とする、日本初の本格的な（あ）内閣が誕生し、d 1925年には選挙法が改正され、普通選挙制度が実現した。

(1) 文章中の下線部 a について、日本経済はどのように変化したか。下のグラフを参考にして、簡単に説明しなさい。



(2) 文章中の下線部 b について、こうした知識人の一人である吉野作造の考え方として誤っているものを、次のア～ウから一つ選び記号で答えなさい。

ア: 藩閥政治をさかんにする。

イ: 普通選挙によって、政治に国民の意見を反映する。

ウ: 天皇主権で、国民の意見を取り入れた政治を行う。

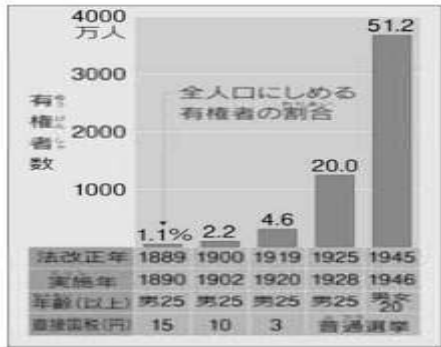
(3) 文章中の下線部 c について、この風潮の中で活発になった民衆運動を一つ取り上げ、次の点に触れながら簡単に説明しなさい。

- ・運動の中心になった人々の立場
- ・運動の中心や主張
- ・具体的な活動や結成された組織

(4) 文章中の（あ）に当てはまる語句を答えなさい。

(5) 文章中の下線部 d について、次の文章の(い)、(う)に当てはまる語句を下の資料を参考にして答えなさい。

普通選挙法の成立によって、全人口にしめる有権者の割合は、約(い)倍になった。これは、この法律によって、選挙権がすべての(う)にあたえられるようになったからである。



(6) 文章中の下線部 D について、この都市には、共産主義を取りしめる目的の法律が出されました。これを何というか答えなさい。

(7) 次の文章は、大正時代の文化についてまとめたものです。文章中の(え)、(お)にあてはまる語句を答えなさい。

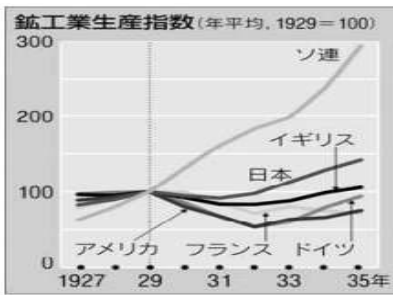
100万部をこえる新聞や雑誌があらわれ、文化の(え)化に大きな役割を果たした。また、活動写真(無声映画)にかわってトーキー(有声映画)が登場し、レコードも普及した。

1925年には(お)放送が始まり、またたくまに全国に広がり、新聞とならぶ情報源となった。こうしたメディアの発達につれて、小説や映画、歌謡曲、スポーツが(え)の娯楽として普及した。

11 次の年表を見て、下の各問いに答えなさい。

年代	世界のできごと	日本のできごと
1929	世界恐慌が始まる…………… A	昭和恐慌
1931		満州事変が起こる…………… B
1932		海軍将校が首相を暗殺する…… C
1936		陸軍青年将校の反乱が起こる… D
1937		日中戦争が始まる…………… E
1939	第二次世界大戦が始まる…………… F	
1941		太平洋戦争が始まる…………… G
1945	国際連合が設立される	広島・長崎に原爆投下…………… H

(1) 年表中のAについて、次の①、②の説明に当てはまる国名を、下のグラフを参考にして答えなさい。



- ① 1929年から1932年の間に、特に鉄工業生産が落ち込み、回復も遅かった国
- ② 世界恐慌の影響をほとんど受けていない国

(2) 年表中のAについて、この混乱に対して、アメリカがとった政策と、イギリスがとった政策を、それぞれ答えなさい。

(3) 年表中のBについて、この事件が原因となって、日本は国際連盟から脱退しました。この脱退で、日本は国際社会の中でどのような立場になったか答えなさい。

(4) 年表中のC・Dについて、日本ではCによって政党政治が膜を閉じ、D以降軍部の政治的発言力が強まりました。C・Dの出来事をなんというか。それぞれ答えなさい。

(5) 年表中のEについて、この戦争に対して、対立していた中国国民党と中国共産党が連携する形で結成されたものは何か答えなさい。

(6) 年表中のEについて、この戦争が泥沼化するなかで、日本政府は1938年に発布した法律で国の産業や国民生活すべてにわたって戦争に動員できる権限を持ちました。この法律を何というか答えなさい。

(7) 朝鮮半島で「皇民化」の名のもとに行われたことがらについて、簡単に説明しなさい。

(8) 次の三つのカードは、年表中F、G、Hに関連するできごとについてまとめたものである。カード内の(あ)～(う)に当てはまる語句を答えなさい。

F 右の写真は、(あ)の調印式に向かう日本・ドイツ・イタリアの代表者たちである。ドイツは支配したヨーロッパ各地できびしい占領政策をとった。



G 右の写真は、アメリカ軍による本土空襲が激しくなるなかで、大都市の小学生たちが親もとをはなれて集団(い)するようすです。



H 右の写真は、原子爆弾の投下によって、一瞬にして廃きよとなった広島のようなすです。広島や長崎では、原子爆弾によって大きな犠牲が出ました。こうした被害を受けて、日本は1945年8月15日に(う)宣言を受け入れて無条件降伏した。



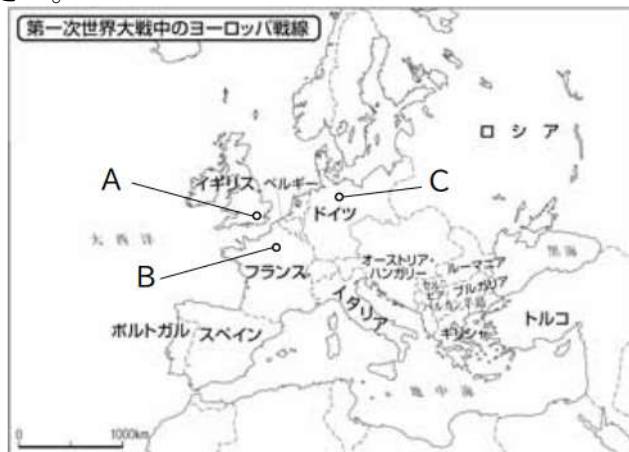
12 次の文章を読み、下の各問いに答えなさい。

20世紀のはじめ、欧米列強は、地球上のあらゆるところでa植民地を広げる機会をねらっていた。バルカン半島は紛争が絶えず、b「ヨーロッパの火薬庫」とよばれていた。

c 1914年にサラエボで起きた事件をきっかけに、世界中を巻きこむ第一次世界大戦が始まり、d死者は1500万人に達した。大戦中に、eロシアでは革命が起こり、f世界最初の社会主義を唱える政府が誕生した。

1918年にドイツが降伏し、翌年g講和会議が開かれ、h講和条約が結ばれた。この会議で、それまで存在した帝国が解体され、iポーランドなどの独立が承認されたが、特に戦勝国のアジア植民地の独立は認められず、j中国やインドなどで、植民地支配に反対する運動が高まった。また、k世界平和と国際協調を目的とする国際機関が誕生した。

- (1) 文章中の下線部 a について、列強が軍事力によってアジアやアフリカを植民地化していく動きを何というか。漢字4字で答えなさい。
- (2) 文章中の下線部 a について、列強が植民地を広げようとした理由を、産業革命と関連させて説明しなさい。
- (3) 文章中の下線部 b について、バルカン半島が「ヨーロッパの火薬庫」と呼ばれた理由を、簡単に説明しなさい。
- (4) 文章中の下線部 c について、どのような事件か、簡単に説明しなさい。
- (5) 文章中の下線部 d について、これだけ多くの死者が出た理由について、使われた兵器に触れながら簡単に説明しなさい。
- (6) 文章中の下線部 e について、この革命を指導した人物を答えなさい。
- (7) 文章中の下線部 f について、こうした政府が成立に対して、日本やアメリカ、イギリス、フランスがとった行動について、理由を含めて簡単に説明しなさい。
- (8) 文章中の下線部 g について、この講和会議はどこで開かれたか。下の地図中の A～C から選び記号で答えなさい。



(9) 文章中の下線部 h について、この講和会議の名称を答えなさい。

(10) 文章中の下線部 i について、ポーランドの独立が認められるもとになった考え方を、漢字 4 字で答えなさい。

(11) 文章中の下線部 j について、中国でおこった反日運動を答えなさい。また、インドで非暴力・不服従運動を指導した人物を答えなさい。

(12) 文章中の下線部 k について、この国際機関の名称と、本部のおかれた都市をそれぞれ答えなさい。

13 次の文章を読み、下の各問いに答えなさい。

大正時代は、a 政党政治が発展し、デモクラシーが唱えられた時期だった。こうしたなか、(①) は、b 民意を政治に反映させることなどを主張した。

いっぽうで、社会運動も高まり、(②) や小作争議が頻繁に起こり、被差別部落の人々は、差別からの解放をめざして、1922 年に (③) を結成した。また、女性の解放をめざす運動も、(④) らを指導者としてくり広げられた。

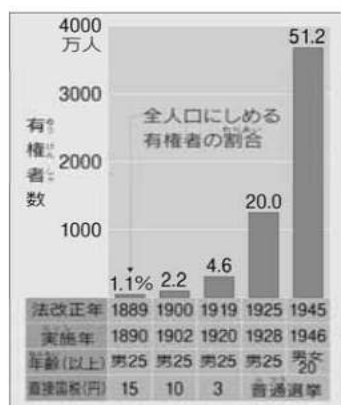
こうした動きを受けて、(⑤) には c (⑥) 法が制定され、広く国民の意向が政治に反映される道が開かれたが、同時に (⑦) 法も制定され、共産主義に対する取りしまりが強化された。

(1) 文章中の空欄 (①) ~ (⑦) にあてはまる語句を答えなさい。

(2) 文章中の下線部 a について、米騒動の直後に、陸軍・海軍・外務以外の大臣すべて政友会の党员でしめる、本格的な政党内閣を組織した人物を答えなさい。

(3) 文章中の下線部 b について、この考え方を何というか。漢字 4 字で答えなさい。

(4) 文章中の下線部 c について、1925 年の、全人口にしめる有権者の割合は、1919 年に比べてどのように変化したか。下のグラフから読み取り答えなさい。また、その変化の理由についても説明しなさい。

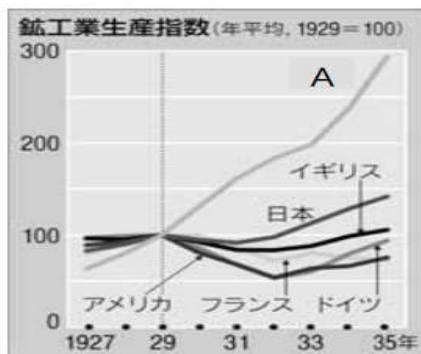


14 次の文章を読み、下の各問いに答えなさい。

(①) 年、ニューヨークの株式市場の株価が暴落し、これをきっかけに a 不況が世界じゅうに広がった。これを (②) とよぶ。こうした状況に対して、各国は自国第一の対策をとった。アメリカは b ルーズベルト大統領のもと、大規模な公共工事をおこし、失業者を助ける政策をとった。(③) やフランスは、c 広大な植民地との結びつきを強めて経済の立て直しを図った。

(1) 文章中の空欄 (①) ~ (③) に当てはまる語句を答えなさい。

(2) 文章中の下線部 a について、アメリカとドイツで最も鉄工業生産が落ち込んだのは何年か。下のグラフから読み取って答えなさい。



(3) 上のグラフで、A の国は世界的な不況の影響を受けずに鉄工業生産を伸ばしている。この国の名前と、生産を伸ばした理由を答えなさい。

(4) 文章中の下線部 b について、この政策を何というか答えなさい。

(5) 文章中の下線部 c について、この政策を何というか答えなさい。

15 次の年表をみて、下の各問いに答えなさい。

年代	できごと
1931	満州事変が起こる
1932	清朝最後の皇帝を元首にした（①）が成立する 五・一五事件が起こる……………A
1933	ドイツでナチスが政権をにぎる……………B 日本が国際連盟を脱退する……………C
1936	二・二六事件が起こる
1937	日中戦争が始まる……………D
1938	国家総動員法が公布される……………E
1939	ドイツが（②）に侵攻し、第二次世界大戦が始まる
1940	ドイツがパリを占領する 日本がドイツ・（③）と三国同盟を結ぶ
1941	日本がハワイの（④）を攻撃し、太平洋戦争が始まる……………F
1942	ミッドウエーの海戦で日本が敗れる
1943	学生を戦場に送る（⑤）が始まる
1944	集団疎開が始まる……………G
1945	（⑥）が降伏する アメリカ軍が沖縄に上陸し、多くの犠牲者がでる （⑦）・長崎に原子爆弾が投下される 日本が（⑧）を受諾して降伏する

(1) 年表中の（①）～（⑧）に当てはまる語句を答えなさい。

(2) 年表中の A について、この事件で暗殺された総理大臣を答えなさい。

(3) 年表中の B について、ナチス・ドイツの指導者を答えなさい。

(4) 年表中の C について、日本が国際連盟を脱退した経緯について、簡単に説明しなさい。

(5) 年表中の D について、この戦争において、中国で国民党と共産党が結成して日本に対抗した組織を答えなさい。

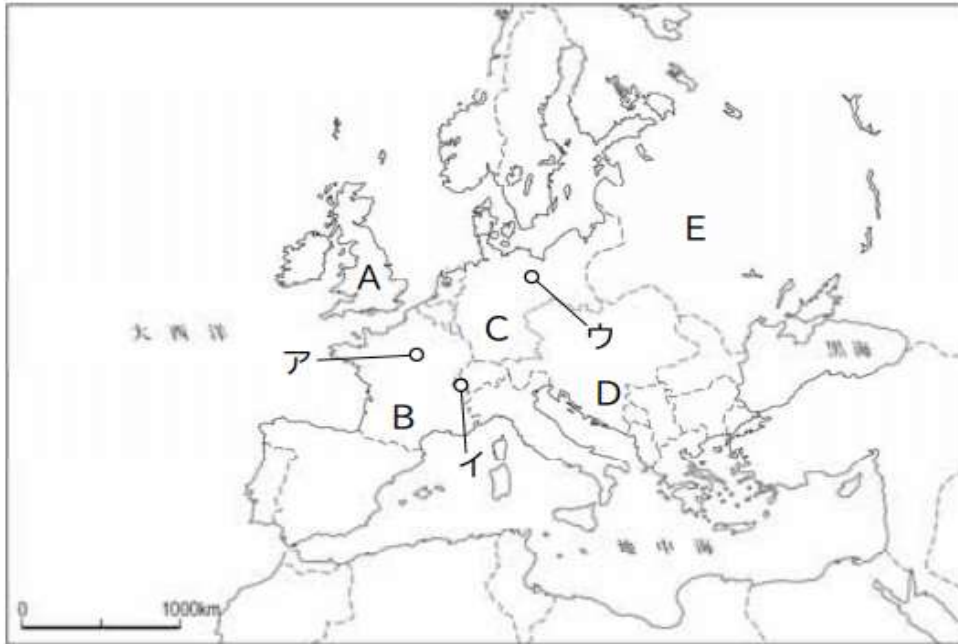
(6) 年表中の E について、この法律に続いて、1940 年に結成された、挙国一致の体制をつくるための団体を答えなさい。

(7) 年表中の F について、攻撃が行われた日付を答えなさい(日本時間)。

(8) 年表中の G について、集団疎開について、下の写真を参考にして簡単に説明しなさい。



16 次の地図は1915年ごろのヨーロッパの様子を表したものである。これを見て、下の各問いに答えなさい。



- (1) このころのヨーロッパを中心に起こっていた、大きな戦争を何というか答えなさい。
- (2) (1)の戦争は、大きく二つの陣営に分かれて戦われていたが、地図中のAの国と同じ陣営の国を、地図中のB～Eから二つ選んで記号で答えなさい。
- (3) 地図中のEの国は1917年に戦争から離脱した。この時にEの国内で起こっていた出来事を何というか答えなさい。
- (4) (3)のできごとによって、Eの国は産業や経済のしくみをどのように変えたか。簡単に説明しなさい。
- (5) (1)の戦争の講和会議はどこで行われたか。地図中のア～ウから選んで記号で答えなさい。
- (6) (1)の戦争の講和条約のうち、Cの国が結んだものを何というか答えなさい。
- (7) (6)の条約について簡単に説明しなさい。
- (8) (1)の戦争の後に設立された、世界平和と国際協調をうたう国際機関を何というか。漢字4字で答えなさい。

17 次の略年表は、大正時代の日本の動きを表したものである。これを見て、下の各問いに答えなさい。

年代	できごと
1912	第一次（①）運動が起こり、桂太郎内閣が退陣する
1915	中国に対して（②）を認めさせる
1918	（③）が全国に広がり、原敬内閣が成立する
1919	中国で（④）運動、朝鮮で（⑤）運動が起こる
1923	（⑥）が起こり、首都圏が壊滅状態となる
1924	第二次（①）が起こり、加藤高明内閣が成立する

(1) 年表中の（①）～（⑥）に当てはまる語句を答えなさい。

(2) 次の資料は、年表中の（②）の一部である。資料中の（ア）、（イ）に当てはまる語句を答えなさい。

- | |
|--|
| <p>— 中国政府は、（ア）が山東省にもっているいっさいの権利を日本にゆずる。</p> <p>— 日本の旅順・大連の租借の期限、（イ）鉄道の期限を99か年延長する。</p> |
|--|

(3) 年表中の（③）のできごとが起こる背景となった、日本の対外的な軍事行動を何というか答えなさい。

(4) 年表中の（④）運動は、パリ講和会議の動きを受けて高まったが、どのような動きだったか。簡単に説明しなさい。

(5) 加藤高明内閣によって改正された選挙法で、選挙権を与えられたのはどのような人々か、説明しなさい。

(6) 加藤高明内閣の時期に、共産主義のとりしまりを教科することを目的として成立した法律を答えなさい。

18 大正時代の思想や社会運動について、次の各問いに答えなさい。

(1) 次の A、B の資料中の (あ)、(い) に当てはまる語句を答えなさい。

A 憲政の根底にあるのは、一般民衆を重んじ、貴賤上下の区別をせず、しかも国体の共和制か君主制かを問わないことである。したがって、(あ) 主義という言葉が一番適当であるかと思う。

B 元始、(い) は実に太陽であった。真正の人であった。今、(い) は月である。他によって生き、他の光によってかがやく、病人のように青白い顔の月である。わたしたちはくされてしまったわが太陽を今や取りもどさなくてはならない。

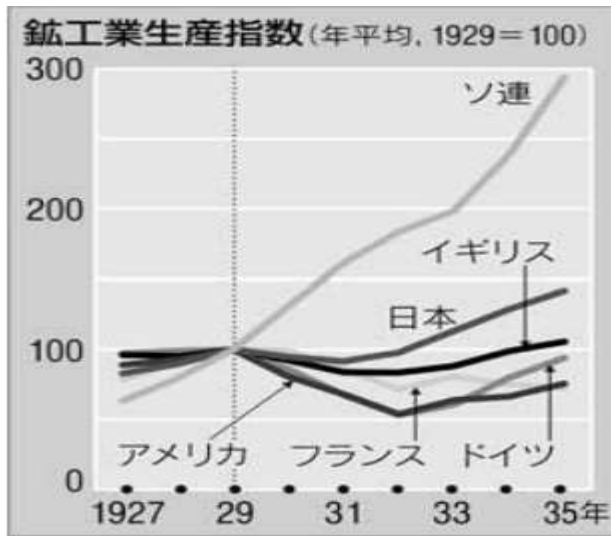
(2) 資料 A の考えを述べた人物を答えなさい。

(3) 資料 B の起草の中心になった人物を答えなさい。

(4) 大正時代には、労働争議の高まりも見られた。労働運動で、労働者が要求した具体的な内容を二つ挙げなさい。

(5) 小作争議で、小作農が要求したことを一つ挙げなさい。

19 次のグラフをみて、下の各問いに答えなさい。



(1) 1929年から1932年ごろまで、各国の鉄工業生産が落ち込んでいるが、この時期におこった深刻な世界的不況を何というか。漢字4字で答えなさい。

(2) 次のA～Dの文章は、その後の各国の様子を述べたものである。それぞれの文章に該当する国名をア～エから、最も関連の深い事柄を、a～dから選び、それぞれ記号で答えなさい。

- A 本国と植民地との関係を密接にして、それ以外の外国商品に対する関税を高めた。
- B 政府が積極的に公共事業をおこし、生産を調整し、失業者に職を与え、労働組合を保護した。
- C 独裁政治のもとで軍事力を強め、対外侵略を進めた。
- D 共産党の独裁体制のもとで、重工業中心の工業化と、農業の集団化をすすめた。

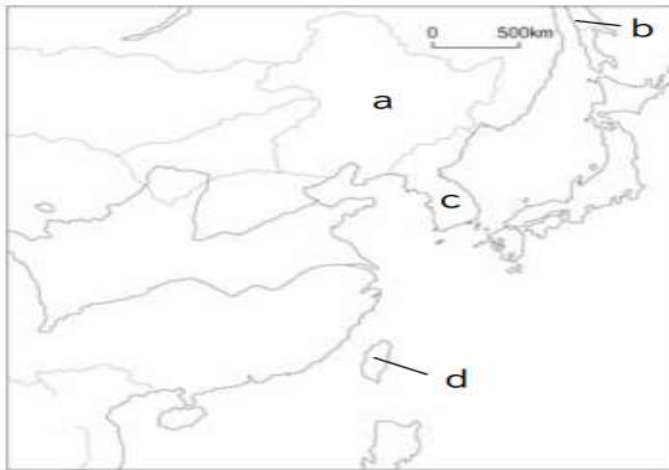
ア:アメリカ イ:イギリス・フランス ウ:ソ連 エ:イタリア・ドイツ
a:5か年計画 b:ニューディール c:ファシズム d:ブロック経済

20 次の年表をみて、下の各問いに答えなさい。

年代	できごと
1927	(①) が起こり、各地の銀行が倒産する
1931	柳条湖での鉄道爆破事件から (②) が起こる
	↑ A ↓
1937	盧溝橋での武力衝突によって (③) が始まる
1941	米英に宣戦布告し、(④) が始まる

(1) 年表中の (①) ~ (④) に当てはまる語句を答えなさい。

(2) 年表中の (②) のできごとの結果、日本が成立させた新たな国を、下の地図中の a~d から選び、記号で答えなさい。



(3) 次のア~キのできごとのうち、年表中の A の時期に起こった出来事を3つ選び、年代の古い順番に並べ替えて答えなさい。

- ア: 日本が国際連盟を脱退した。
- イ: 海軍青年将校らが犬養毅総理大臣を暗殺した。
- ウ: 国家総動員法が公布された。
- エ: 大政翼賛会が結成された。
- オ: 日独伊三国同盟が結ばれた。
- カ: 日ソ中立条約を結んだ。
- キ: 陸軍青年将校らが首相官邸や警視庁を襲撃した。

(4) 次の文章は、ある年の出来事について述べたものである。文章中の (あ) ~ (え) に当てはまる語句を答えなさい。

3月から6月にかけて、日本国内で、県民を巻きこんだ唯一の地上戦が (あ) で戦われた。8月には、6日に (い) に、9日に (う) に原子爆弾が投下された。さらに、ソ連の対日参戦もあり、ついに日本は (え) を受け入れて降伏した。

(5) (4) の文章は何年の出来事か、年代を答えなさい。

21 次の年表を見て、下の各問いに答えなさい。

年代	できごと	
1914	第一次世界大戦が始まる……………	A
1919	ベルサイユ条約が結ばれる……………	B
1929	世界恐慌が始まる……………	C
1931	満州事変が起こる……………	D
1932	五・一五事件が起こる	
1936	二・二六事件が起こる……………	E
1937	(①) 戦争が始まる	} … F
1939	第二次世界大戦が始まる	
1941	太平洋戦争が始まる	
1945	太平洋戦争が終わる	

(1) 年表中の (①) に当てはまる語句を答えなさい。

(2) 年表中の A の要因の一つとなった、欧米が工業原料や市場の確保のために獲得競争をしていた海外領土を何というか。漢字 3 字で答えなさい。

(3) 年表中の B の条約締結後に、アメリカのウィルソン大統領の提案にもとづいて設立された国際機関を答えなさい。

(4) 次のア～エの出来事は、年表中の A と B の間に起こったものである。年代の古い順番に並べかえ、記号で答えなさい。

ア: 日本が中国に二十一か条の要求を出す。

イ: 日本で米騒動がおこる。

ウ: ロシア革命がおこる。

エ: 日本がシベリア出兵を行う。

(5) 年表中の C の出来事は、アメリカから世界中に広がった。これに対して各国は自国第一の対策をとったが、アメリカとイギリスの対策に関するものを、下のア～エから一つずつ選び、それぞれ記号で答えなさい。

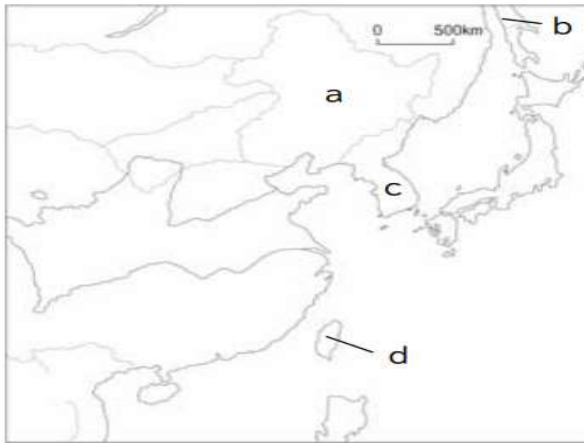
ア: 生ぐが積極敵に公共事業をおこし、失業者を助けた。

イ: 関係の深い国々だけで経済を成り立たせ、そのほかの国の商品には高い関税をかけた。

ウ: 重工業中心の工業化と農業の集団化を強行した。

エ: 自由主義や民主主義を抑圧する全体主義をとった。

(6) 年表中のDの結果、満州の主要部を占領し、翌年満州国を建国した。満州国の位置を、下の図の a～d から選び記号で答えなさい。



(7) 年表中のEの事件以後の日本の政治について、次の語句を用いて簡単に説明しなさい。

【 軍部 発言力 軍備 】

(8) 年表中のFの期間のできごとについて述べた下のア～エの文章の下線部について、正しければ「○」を、誤りであれば正しい語句を答えなさい。

ア: 1940年に日独伊三国同盟が結ばれ、結束が強化された。

イ: ヒトラーに率いられたナチス・ドイツは、特にユダヤ人に対する厳しい弾圧を行った。

ウ: 日本は資源獲得のために東南アジアに進出し、北方では1941年にソ連と戦いを始めた。

エ: 長期化する戦争解決のために、日本はイギリスとの交渉を行ったが、うまくいかなくなり、日本は戦争を決意した。

22 次の資料1～資料3をみて、下の各問いに答えなさい。

資料 1



資料 2

- 中国政府は、(①) が山東省にもっている いっさいの権限を日本にゆずる。
- 日本の旅順・大連の租借の期限，南満州鉄道の期限を 99 か年延長する。

資料 3



(1) 資料1のように、ベルサイユ条約などで多くの独立国が生まれた。このように「自分の国のあり方を自主的に決める」という考え方を何というか。漢字 4 字で答えなさい。

(2) 資料 2 中の (①) にあてはまる国名を、下のア～エから選んで、記号で答えなさい。

ア： イギリス イ： ドイツ ウ： フランス エ： アメリカ

(3) 資料 3 の人物は、非暴力・不服従を唱え、インドでイギリスに対する完全な自治を求める運動を指導した。この人物の名前を答えなさい。

23 大正時代に関する次の文章を読んで、下の各問いに答えなさい。

第一次世界大戦によって、日本経済は好景気にわき、a それまでの輸入超過が輸出超過となって、工業国としての基礎が築かれた。

また、政治の面では、第一次護憲運動に始まる、b 政党政治の発展をみた。民主シーが唱えられ、c 国民の意向が政治に反映される道が開かれた。また、d 1922年には日本共産党がひそかに結成された。

こうした民主シーの風潮のなかで、ロシア革命などの影響を受け、民衆運動や労働運動、農民運動などのe 社会運動が活発になった。

いっぽう、大正時代には 100 万部をこえる新聞や、週刊誌などがあられ、文化の大衆化に大きな役割を果たすいっぽう、1925年に始まった(①)は、またたくまに全国に普及し、新聞とならぶ情報源になった。

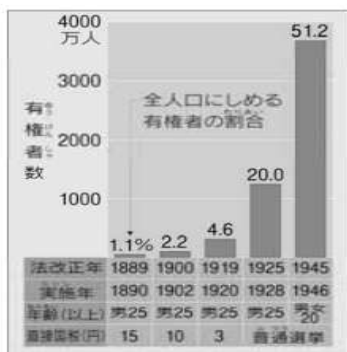
(1) 文章中の(①)に当てはまる語句を答えなさい。

(2) 文章中の下線部 a について、このような状況になった理由について、次の語句を用いて説明しなさい。

【 綿布 アジア・アフリカ 欧米 重化学工業 】

(3) 文章中の下線部 b について、米騒動の直後に本格的な政党内閣を組織した人物を答えなさい。

(4) 文章中の下線部 c について、1925年に成立した普通選挙法によって、有権者の数はどのように変化したか、下のグラフを参考にして、簡単に説明しなさい。



(5) 文章中の下線部 d について、普通選挙法の成立と同じ年に、共産主義の取り締まりを強めるために定められた法律を答えなさい。

(6) 文章中の下線部 e について、大正時代の社会運動について述べた次のア～ウの下線部について、正しければ「○」を、誤りであれば正しい語句を答えなさい。

ア： 農村では、小作料の減免を要求する労働争議がひんばんに起こった。

イ： 被差別部落の人々は、差別からの解放をめざす運動をすすめ、1922年に全国水平社を結成し、運動は全国に広がった。

ウ： 女性解放を唱えてきた平塚らいてうは、新婦人科医を設立し、女性の政治活動の自由などを求める運動をくり広げた。

24 太平洋戦争中の日本のようすや動きについて、次の各問いに答えなさい。

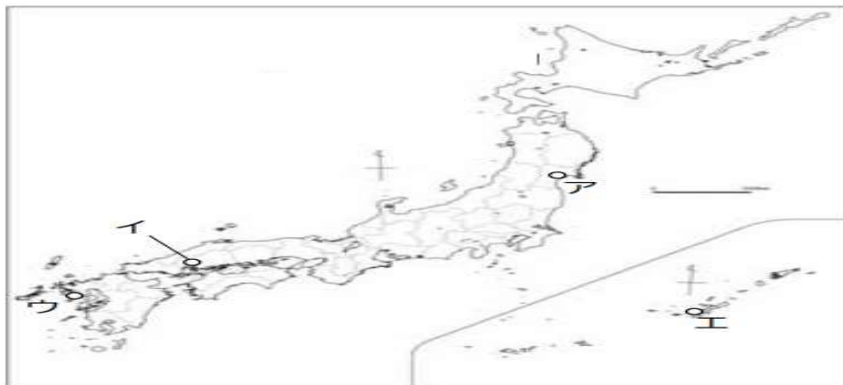
(1) 労働力不足を補うために、日本国内ではどのような人々が勤労のために動員されたか答えなさい。

(2) 労働力不足を補うために、日本に連れてこられて、意思に反して働かされた朝鮮人や中国人などもいた。こうした人々の労働条件について簡単に説明しなさい。

(3) 空襲の激化で、大都市の小学生は親もとをはなれて地方に避難した。これを何というか。漢字4字で答えなさい。

(4) 連合国側が、日本に無条件降伏を求めた宣言を何というか答えなさい。

(5) 日本に原子爆弾が投下された場所を、下の地図のア～エから二つ選び、記号で答えなさい。



(6) 次のア～エは、太平洋戦争終結までの出来事である。年代の古い順に並べかえて、記号で答えなさい。

ア： アメリカ軍が沖縄に上陸した。

イ： 日本に最初の原子爆弾が落とされた。

ウ： 天皇は、降伏の事実をラジオで日本国民に知らせた。

エ： ソ連が参戦し、満州・朝鮮に進出した。

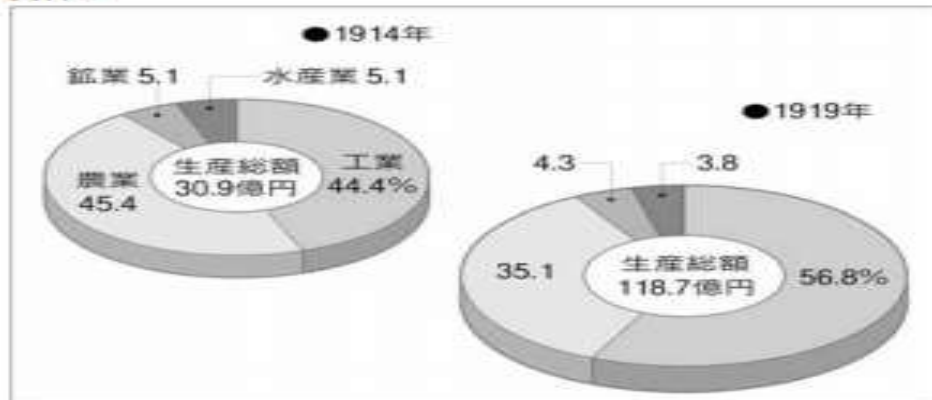
25 次の年表と資料1、資料2をみて、下の各問いに答えなさい。

年代	できごと	
1914	第一次世界大戦が始まる……………	A
1917	(①) 革命が起こる……………	
1918	米騒動が日本各地で起こる……………	B
1919	ドイツとの間に (②) 条約が結ばれる……………	C
1920	国際連盟が設立される……………	D
1925	普通選挙法が成立する……………	E

資料 1



資料 2



- 年表中の (①)、(②) にあてはまる語句を答えなさい。
- 年表中の A について、第一次世界大戦の前に「ヨーロッパの火薬庫」とよばれていた半島を、資料1中の a～d から選び、記号で答えなさい。
- 年表中の A について、日本は第一次世界大戦に、ある同盟を理由に参戦した。この同盟を何というか答えなさい。
- 年表中の A について、この翌年、日本は中国におけるドイツ権益を日本が引き継ぐことなどの要求を中国に示し、大部分を認めさせた。この要求を何というか答えなさい。
- 年表中の A について、第一次世界大戦によって、日本は好景気となったが、その理由について、資料2を参考にして、簡単に説明しなさい。
- 年表中の B について、これが起こった原因について、次の語句を用いて簡単に説明しなさい。
【 シベリア出兵 米価 】

(7)年表中のBののち、本格的な政党内閣を組織した人物を、次のア～エから一人選び記号で答えなさい。

ア：桂太郎　イ：新渡戸稲造　ウ：伊藤博文　エ：原敬

(8)年表中のCについて、この条約の検討過程で、ドイツの権益が日本に認められたことで、中国で起こった反日運動を何というか答えなさい。

(9)年表中のCについて、この年に朝鮮で起こった、日本からの独立をめざす運動を何というか。

(10)インドで非暴力・不服従を唱え、独立運動の中心になった指導者を答えなさい。また、この当時、インドを植民地としていた国を、資料1中のア～オから一つ選び、記号で答えなさい。

(11)年表中のDについて、国際連盟の設立を提唱したアメリカの大統領を答えなさい。

(12)年表中のDについて、国際連盟について正しく述べているものを、次のア～エから二つ選び、記号で答えなさい。

ア：日本はイギリスなどとともに常任理事国となった。

イ：設立と同時に、アメリカとソ連が加盟した。

ウ：設立当初は、ドイツは加盟できなかった。

エ：美濃部達吉が事務局次長として活躍した。

(13)年表中のEについて、どのような人々に選挙権が与えられたか。説明しなさい。

(14)年表中のEについて、普通選挙法の制定を求める運動に影響をあたえ、民本主義を唱えた人物を答えなさい。

(15)年表中のEと同時に成立、共産主義に対する取りしまりを強めるための法律を答えなさい。

(16)年表中のEと同じ年に始まり、新聞と並ぶ情報源となったものは何か、答えなさい。

(17)年表中のDとEの間におこったできごとを、次のア～エから二つ選び、記号で答えなさい。

ア：関東大震災　イ：関税自主権の完全な回復　ウ：大逆事件　エ：全国水平社の結成

(18)大正期の教育と文化について述べた次のア～エの文章のうち、間違っているものを二つ選び、記号で答えなさい。

ア：小学校では、個性を大切にし、自主性を重視する自由教育の運動が始められた。

イ：義務教育が4年から6年になり、小学校の就学率が高まり、国民教育の基礎が固まった。

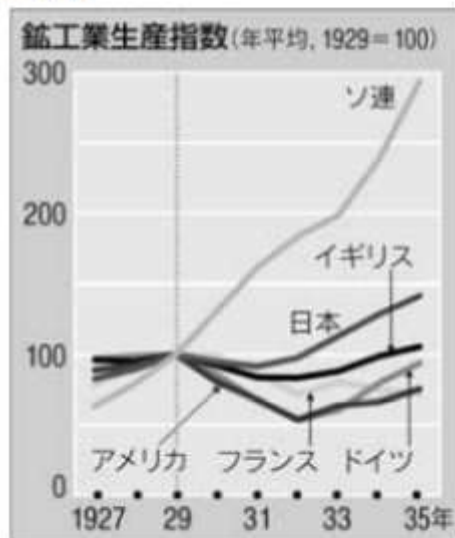
ウ：児童向けの雑誌が発行され、ヨーロッパ風の童謡や童話が広まった。

エ：個性を重んじるロマン主義が主流となり、与謝野晶子や樋口一葉ら、女性の文学者が活躍した。

26 次の年表と資料1～資料3を見て、下の各問いに答えなさい。

年代	できごと
1929	世界恐慌が起こる……………A
1931	満州事変が起こる
1932	五・一五事件が起こる……………B
1933	①……………C
1936	二・二六事件が起こる……………D
1937	②……………E
1939	第二次世界大戦が始まる……………F
1941	日本が真珠湾を奇襲する……………G
1945	原子爆弾が投下される……………H

資料1



資料3

アンネの日記 (部分訳)
 1942年10月9日 金曜日
 親愛なるキティーへ

今日は悲しくゆううつなニュースばかりです。たくさんの(①)人のお友だちが、いっぺんに10人、15人と検束されていきます。この人たちは、ゲシュタポからこれっぽちの人間らしいあつかいも受けず、家畜車につめこまれて、ドレンテにあるオランダ最大の(①)人収容所、ベステルボルクへ送られていきます。

(1) 年表中の①、②にあては○出来事を、次のア～オから選んで記号で答えなさい。

- ア： 中華民国が成立する
- イ： 日中戦争が始まる
- ウ： 関東大震災が起こる
- エ： ワシントン会議が開かれる
- オ： 日本が国際連盟を脱退する

(2) 年表中の A について、この出来事は、ある国で株価が暴落したことをきっかけに起きた。この国はどこか答えなさい。

(3) 年表中の A について、これを乗り切るために、イギリスやフランスが取った政策について簡単に説明しなさい。

(4) 年表中の A について、ソ連がこの影響を受けなかった理由について、資料 1 を参考にして説明しなさい。

(5) 年表中の B について、この事件で暗殺された総理大臣を、次のア～エから選び、記号で答えなさい。

- ア： 加藤高明
- イ： 犬養毅
- ウ： 浜口雄幸
- エ： 伊藤博文

(6) 年表中の B・D について、こうした事件によって、日本の政治はどのように変化したか。簡単に説明しなさい。

(7) 年表中の C について、この年に、ドイツでナチスを率いて政権をにぎった人物を答えなさい。

(8) (7) の政権によって、特に強く迫害された、資料 3 中の (①) にあてはまる民族名を答えなさい。

(9) 年表中の E について、この年に中国では国民党と共産党が手を結び抗日民族統一戦線が結成された。この当時の、国民党と共産党の中心人物を、次のア～オから一人ずつ選び、それぞれ記号で答えなさい。

- ア： 孫文
- イ： 李舜臣
- ウ： 毛沢東
- エ： 溥儀
- オ： 蒋介石

(10) 年表中の F について、この戦争はドイツがどこの国に侵攻したことから始まったか答えなさい。

(11) 当時のドイツやイタリアのような、反民主主義、反自由主義をかかげる全体主義の政治を何というか答えなさい。

(12) 年表中の F について、この戦争の過程で、日本が東南アジアに進出した理由を簡単に説明しなさい。

(13) 年表中の G について、このできごとから、日本とアメリカの戦争は始まった。この戦争を何というか答えなさい。

- (14) 次の文章は、日本の戦時下の生活について述べたものです。
この文章中の(①)～(③)にあてはまる語句を答えなさい。

ほとんどの日本国民が戦争のために動員された。男子学生は(①)によって戦場に送られた。空襲が激しくなると、大都市の小学生は、親もとをはなれて、地方に集団で(②)した。また、不足する労働力を補うために、日本に連れてこられ、意思に反して鉱山や工場で働かされた中国人や、(③)人もいた。

- (15) 年表中のHについて、原子爆弾が投下された日本の都市を二つ答えなさい。
- (16) 年表中のHの年の3月にアメリカ軍が上陸し、激しい戦闘が行われた県を答えなさい。
- (17) 連合軍が日本に無条件降伏を求めた宣言を何というか答えなさい。
- (18) 日本が降伏し、第二次世界大戦が終わったのは何月何日か答えなさい。